

# 家长与监护人信息

## 概述

- 南卡罗来纳州大学和职业准备评估 (SC READY) 是一项在全州范围内对 3-8 年级的英语语言艺术 (ELA) 和数学以及 4-6 年级的科学进行的评估。SC READY 考试旨在衡量学生在 ELA、科学和数学课程中所学习的南卡罗来纳州大学和职业准备标准。要查看这些标准, 请访问 SCDE 网站: <https://ed.sc.gov/instruction/standards-learning/>
- 所有学生, 包括残疾学生和多语言学习者 (ML), 都必须接受 SC READY 评估考试, 但 IEP 小组确定有资格参加南卡罗来纳州替代评估 (SC-Alt) 的学生除外。

## 考试窗口

- SC READY 评估须依据各地区的教学日历在**最后 20 个教学日内执行**。学区和学校将安排具体的考试日期, 并在其网站上公布。
- SCDE 要求各学区将**三年级考试安排在考试时间窗口的第一周**, 以便获得学生考试成绩, 从而根据《南卡罗来纳州阅读走向成功法案》的规定, 确认是否参加暑期阅读营。

## 考试管理

- SC READY 考试不设时限。不过, 学生应在放学前完成每项考试。
- 针对 2024-25 年度的考试安排, ELA 测试将被设置为包含三部分的测试。各部分测试具体划分如下: 写作、阅读 A 部分和阅读 B 部分。阅读 A 部分和阅读 B 部分将连续进行, 而写作和阅读部分之间至少间隔一天。
- 数学考试在一天内进行。对于 6-8 年级的学生, 数学考试分为“计算”部分与“非计算”部分, 两部分都在一天内进行。

## 考试形式

- SC READY 评估考试仅以机考形式进行, 但以下情形除外:
  - 因残疾而无法参加线上评估的学生, 可按照 IEP 或 504 计划参加笔试, 多语言学习者 (ML) 也可按其 ILAP 的规定参加笔试。

## 翻译/可访问性

- 家长资源 (包括本手册、分数报告样本和写作检查清单) 有多种语言版本, 并采用可访问的格式。请前往学生和家長资源网页获取翻译版本、大字体文件, 并索取其他格式的资源:  
<https://ed.sc.gov/tests/assessment-information/student-and-parent-resources/>

## 试题类型

- ELA、数学和科学考试包含难度各异的试题。
- ELA 考试包括 3-8 年级选择 - 反应题 (SR)、4-8 年级技术强化题 (TE) 以及 5-8 年级基于证据的选择 - 反应题 (EBSR)。ELA 考试还包括文本相关写作 (TDW) 题。TDW 试题要求学生阅读一段文字, 并根据文本内容提示或任务提供书面答案。
- 数学考试包含 SR 试题 (3-8 年级)、多选 (MS) 试题 (5-8 年级) 和 TE 试题 (6-8 年级)。TE 试题包括拖放、热点、下拉列表、键盘输入和建构题 (输入数字)。
- 科学考试包含 SR、EBSR 和 TE 试题类型: 拖放、热点 (点击选择)、匹配互动 (根据条件进行点击选择) 以及突出显示文本。建构题包括条形图 (单击可在图表上生成条形图)、数值答案和下拉列表。测试还包括趣味附加题, 由一段短文 (可能包含图表、地图、示意图等) 和三个相关问题组成。



样题

英语语言艺术

阅读某位学生的作文草稿。

动物园管理员整天和动物呆在一起。他们知道动物们最喜欢什么，而且知道怎么照料它们。很多人和动物们建立了特殊的关系。动物园管理员能时刻观察动物们的成长与变化。有时候，他们也有机会去喂养和照料动物园里新生的动物宝宝。还有什么比这更有趣、更激动人心吗？

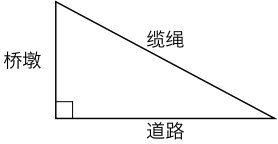
以下哪句能够最好地引出这段文字？

- A. 我希望能在这个夏天与父母一起逛动物园。
- B. 在许多动物园里可以见到熊、猴子等动物。
- C. 我觉得动物园里面的工作是所有工作里面最好的。
- D. 世界各地的城市中有成百上千的动物园。

答案 = C

数学

这幅图上面显示有一个桥墩、一条缆绳和一座桥上的道路。



桥墩高度为 80 英尺。缆绳长度为 170 英尺。从桥墩的底部到缆绳与桥上道路连接处的距离有多少英尺？

- A. 90
- B. 150
- C. 190
- D. 250

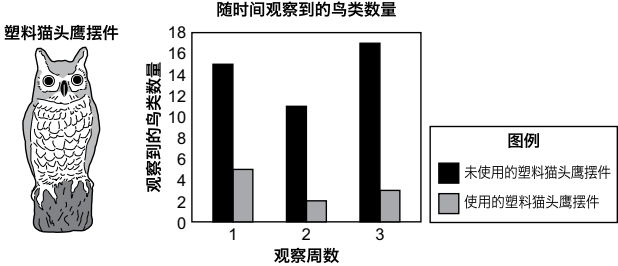
答案 = B

科学——四年级

试题包含两部分。

一位学生了解到，有些人会将大型的塑料猫头鹰摆件放在他们不希望鸟类聚集的地方。

于是，该学生决定进行调研。在三周的时间里，学生记录了在没有使用塑料猫头鹰摆件时，某个区域出现的鸟类数量。然后，在接下来的三周里，学生记录了使用塑料猫头鹰摆件后，同一区域出现的鸟类数量。



A 部分：以下哪个陈述最有可能解释学生所观察到的结果？

- A. 其他鸟类会避开猫头鹰。
- B. 猫头鹰会避开其他鸟类。

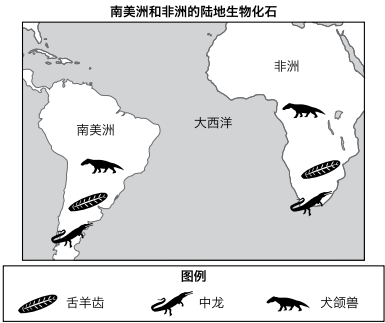
B 部分：以下哪个数据最能佐证 A 部分所选出的答案？

- A. 使用塑料猫头鹰摆件时观察到的鸟类更多。
- B. 使用塑料猫头鹰摆件时观察到的鸟类更少。

答案 = A/B

科学——六年级

舌羊齿是一种古老的蕨类植物。中龙和犬颌兽是古老的爬行动物。这张地图标示出了发掘出这三种生物化石的位置。



以下哪个陈述最有效地借助了地图上的证据来论证板块构造理论？

- A. 化石表明，这两个大陆块曾经相距更远，这些生物在两个陆地地块之间进行了长距离的迁徙。
- B. 化石表明，这两个大陆块曾经连接在一起，然后在很长一段时期内逐渐分离。
- C. 化石表明，这些生物在成为化石前，从一个大陆块游到了另一个大陆块。
- D. 化石表明，这些生物在两个大陆块上各自独立发育，随着时间的推移，尽管这两个大陆逐渐分离，但它们却保持了相似性。

答案 = B

样题、教程和在线工具培训 (OTT)

SC Ready 网页 (<https://ed.sc.gov/tests/middle/sc-ready/>) 提供练习、备考和参考资源，包括：

- 各个年级和科目的测试样题。
- 在线测验视频教程，含在线测验系统用法详细说明。学校应在考试前与学生一起复习这些教程。
- 在线工具培训 (OTT) 计算机模块模拟考试环境，并允许学生使用考试过程中可用的考试软件和工具（如荧光笔、放大镜和计算器）进行练习。

考试结果

- 各学区将在 7 月 17 日之前收到学生个人报告 (ISR) 的电子版。8 月 1 日之前，各学区将收到纸质版 ISR 报告，分发给学生家长。
- 学生成绩以分数、成绩等级（超过、达到、接近或未达到）以及每次考试的按报告类别划分的表现分数（低、中或高）来报告。